


# هوش امپراطور دوم دبستان


زیر نظر: دکتر شاکری



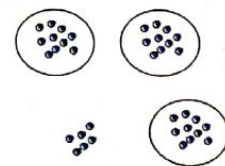
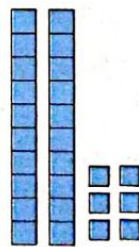
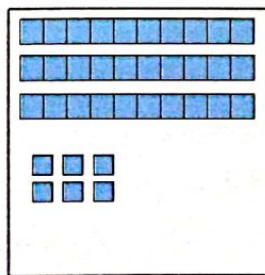
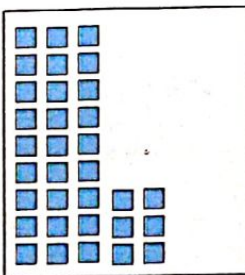
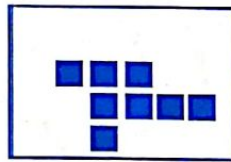
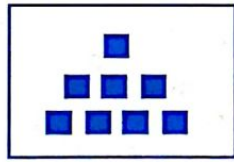
۱- با رنگ کردن خانه‌های شطرنجی زیر، کوچک‌ترین عدد سه رقمی را نشان بده.




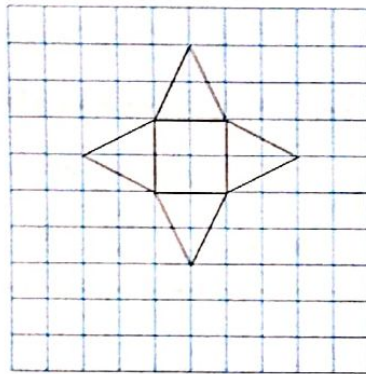

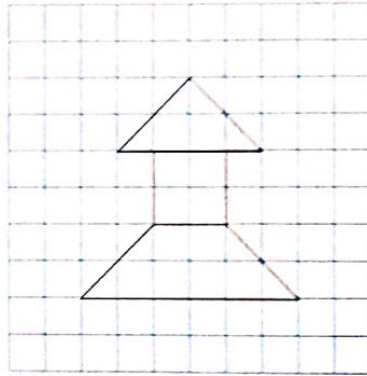
۲- دومین سیب از ردیف سوم از سمت چپ را زرد و اولین سیب از ستون چهارم از سمت چپ را قرمز رنگ بزن.



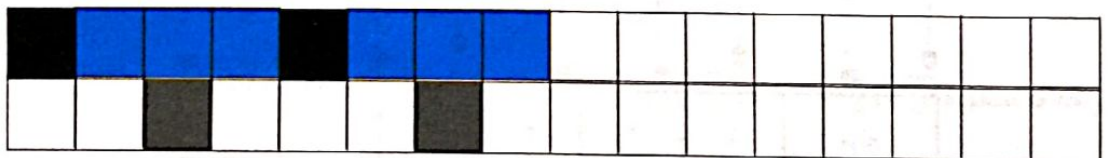

۳- در هر ردیف، روی تصویر متفاوت را خط بزن.



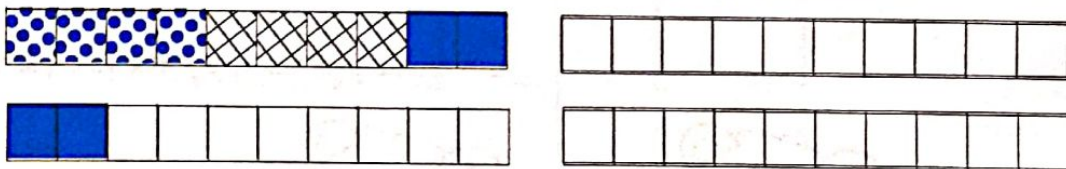
۴- هر یک از شکل‌های سمت چپ را روی جدول شطرنجی سمت راست، بکش.



۵- الگوهای زیر را ادامه بده.



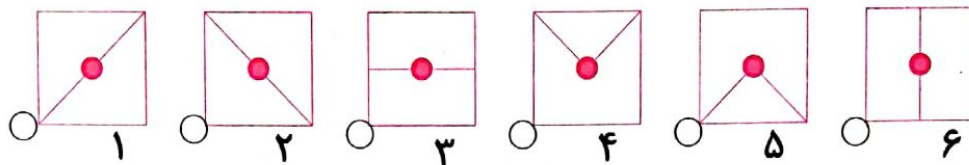
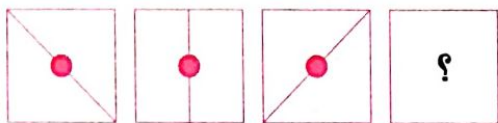
۶- با استفاده از رنگ‌های مختلف، الگوی شمارش زیر را ادامه بده و آن را کامل کن.




۷- شکل‌های زیر چه عددی را نشان می‌دهد؟ با رسم شکل هفتمین عدد بعد از آن را بنویس.



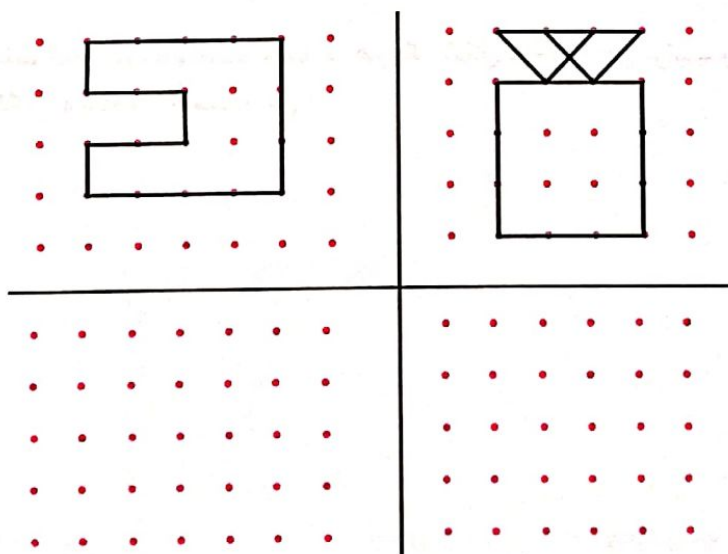
۱۲- کدام یک از شکل‌های یک تا شش را باید به جای علامت سؤال قرار داد، علامت ✓ بزن.



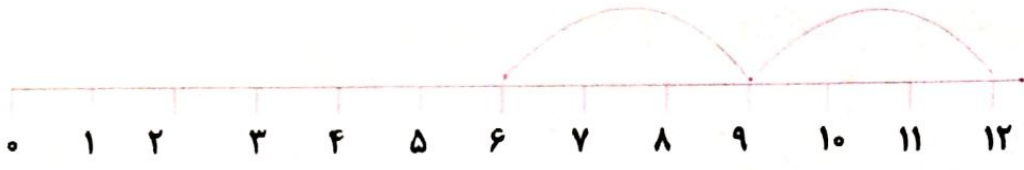
۱۳- در بین شکل‌های زیر فقط دو شکل مثل هم هستند آن‌ها را پیدا کن و دورشان خط بکش.



۱۴- با توجه به شکل‌های بالای خط، نقطه‌های پایین را به هم وصل کن.



۱۸- با کمک محور، رو به عقب بشمار و شمارش چندتا چندتا را کامل کن.




..... و ..... و ۶ و ۹ و ۱۲





..... و ..... و ۸ و ۱۲ و ۱۶

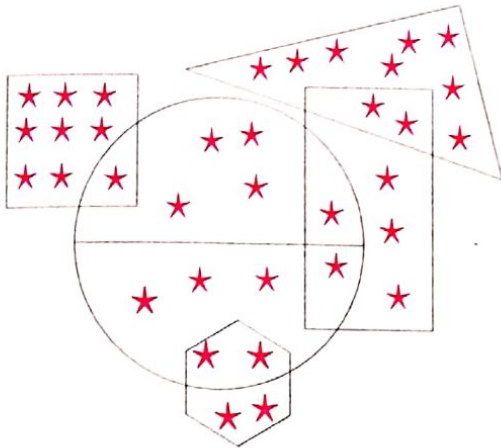
۱۹- مانند نمونه با شابلون و رسم ۴ مربع شکل بساز.



۲۰- با توجه به راهنما، شکل را رنگ بزن.



۵۷- در داخل شکل‌های زیر تعدادی ستاره وجود دارد. تعداد ستاره‌ها را آن طور که خواسته شده پیدا کن و بنویس.



داخل مربع ..... تا ستاره.

داخل مثلث ..... تا ستاره.

داخل مستطیل ..... تا ستاره.

داخل ۶ ضلعی ..... تا ستاره.

داخل دایره ..... تا ستاره.

داخل نیمه‌ی بالایی دایره ..... تا ستاره.

داخل ۶ ضلعی و نیمه‌ی پایینی دایره ..... تا ستاره.


داخل مستطیل و مثلث ..... تا ستاره.

تعداد ستاره‌های داخل همه‌ی شکل‌ها ..... تا ستاره.

حالا عدد مربوط به همه‌ی ستاره‌ها را داخل جدول یکی ده تایی بگذار و با حروف بنویس.

ده تایی	یکی	[ ]


۵۸- زمان‌های خواسته شده را روی ساعت‌های زیر نشان بده.



نیم ساعت مانده به ۱۰



ساعت ۳ و نیم

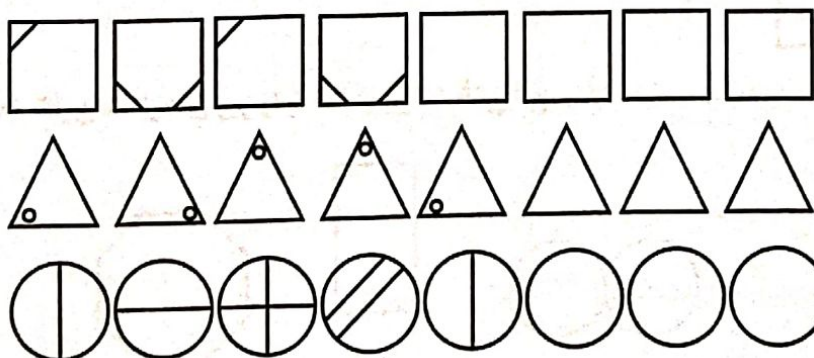


یک ربع مانده به ۳

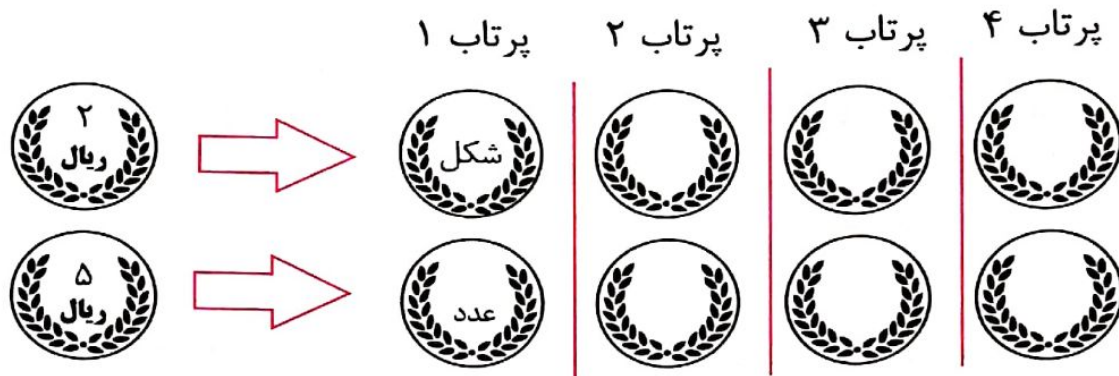


ساعت ۵ و ربع

۵۹- الگوهای زیر را ادامه بده.

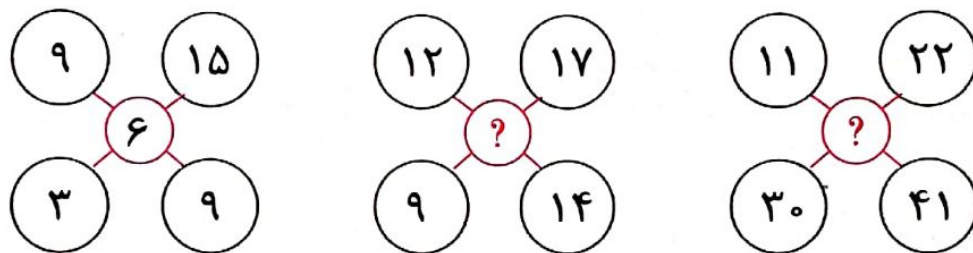


۷۶- اگر یک سکه‌ی ۲ ریالی و یک سکه ۵ ریالی را چهار بار با هم پرتاب کنیم. احتمال این که هر دو سکه شکل یا عدد بیاید چه قدر است؟ احتمالات این پرتاب را مثل نمونه روی سکه‌های زیر ادامه بده.















احتمال این که هر دو سکه شکل باشد. .... بار از ۴ بار می‌باشد.

۷۷- به جای علامت سؤال‌ها چه اعدادی را باید نوشت؟



۷۸- با کمک جدول راهنما، مثل نمونه، عددهای خواسته شده را به خط میخی بنویس.

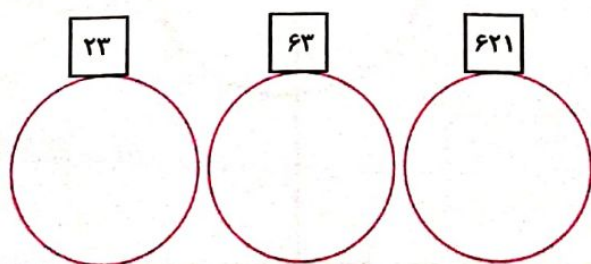
جدول راهنما

				
۱	۲	۳	۴	۵
				
۶	۷	۸	۹	۱۰
				
۶۰	۶۰۰			

خط میخی

$$\langle \langle \langle \nabla \text{W} = 93 \quad \left| \quad \langle \frac{\text{W}}{\text{W}} = 15$$

$$10 + 10 + 10 + 60 + 3$$



۷۰

۵۲

۶۴

۳۵

۴- هر جمله را به عدد مربوط به خودش وصل کن.

رقم یکی‌ها ۵ و رقم ده‌تایی ۳

رقم یکی‌ها ۴ و رقم ده‌تایی ۶

رقم یکی‌ها ۰ و رقم ده‌تایی ۷

رقم یکی‌ها ۲ و رقم ده‌تایی ۵

۵- امروز روز پنجم ماه است. ۹ روز بعد چه روزی از ماه است؟

\_\_\_\_\_ ماه است.

۶- الگوهای عددی زیر را کامل کن.

\_\_\_\_\_ و \_\_\_\_\_ و \_\_\_\_\_ و ۱۲ و ۸ و ۴

\_\_\_\_\_ و \_\_\_\_\_ و \_\_\_\_\_ و ۱۲ و ۶

\_\_\_\_\_ و \_\_\_\_\_ و \_\_\_\_\_ و ۱۶ و ۸

۷- در شمارش ۷ تا ۷ تا عدد بعد از ۲۱ کدام یک از اعداد زیر است؟

۲۹ **د**

۲۸ **ج**

۲۷ **ب**

۲۵ **الف**

۸- با رقم‌های ۵ و ۶ چند عدد دو رقمی می‌توان نوشت؟ آن‌ها را بنویس.

۹- با رقم‌های ۲ و ۰ و ۳ چند تا عدد ۳ رقمی می‌توانی بنویسی؟ آن‌ها را بنویس.

۱۰- در هر ردیف عددهای نوشته یک ارتباط با هم دارند. عدد متفاوت را علامت بزن.

۹۴	۸۲	۳۴	۱۴	۸۴	
۱۰	۲۰	۳۰	۴۵	۵۰	
۲	۴	۶	۸	۱۱	۱۲



۸۵- جمله‌های زیر را با اعداد مناسب کامل کن.

۴۷ یعنی ..... ده تایی و ..... قسمت از ۱۰ قسمت مساوی.

۳۵ یعنی ..... ده تایی و ..... قسمت از ۱۰ قسمت مساوی.

۲۹ یعنی ..... ده تایی و ..... قسمت از ۱۰ قسمت مساوی.

۸۶- مزرعه داری، ۱۷ تا گوسفند داشت. از این گوسفندها، به جز ۹ تا، بقیه می‌میرند. حالا مزرعه دار چند تا گوسفند زنده دارد؟

۸۷- از ۰ تا ۱۰۰ چند تا عدد ۹ وجود دارد؟

الف ۱۷ تا

ب ۲۰ تا

ج ۱۹ تا

د ۱۸ تا

۸۸- با توجه به الگویی که در جدول زیر به کار رفته است، جواب علامت سؤال را پیدا کن و علامت بزنی.

۴			
۶	۲		
۹	۳	۱	
۱۹	۱۰	۷	۴

الف ۷

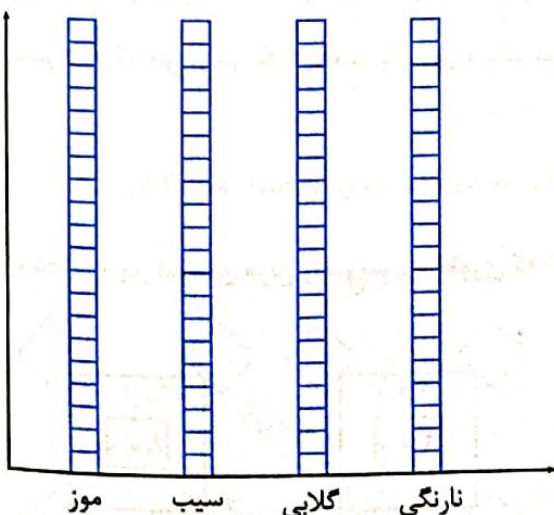
ب ۸

ج ۹

د ۶

۸۹- پدر زهره وقتی به پارک می‌رفت، مردی را دید که از رو به رو می‌آمد. همراه مرد ۷ زن بود. هر زن ۷ دختر و هر دختر ۷ بچه داشتند که در پشت سر آنها می‌آمدند. چند نفر به پارک می‌رفتند؟

۹۰- جدول زیر اطلاعات مربوط به میوه‌های مورد علاقه‌ی دانش‌آموزان یک کلاس ۲۰ نفره است. جدول را کامل کن و اطلاعات به دست آمده را روی نمودار ستونی زیر نشان بده.



نام میوه	چوب خط	تعداد
موز		۲۰
سیب		۱۶
گلابی		
نارنگی		

۹۱- در جدول زیر حروف الفبای فارسی امتیازبندی شده‌اند.

هر حرف ۳ امتیاز ا ب پ ت ث	هر حرف ۴ امتیاز ج چ ح خ د	هر حرف ۵ امتیاز ذ ر ز ژ س
هر حرف ۷ امتیاز ش ص ض ط ظ	هر حرف ۸ امتیاز ع غ ف ق ک گ	هر حرف ۹ امتیاز ل م ن و ه ی

با استفاده از جدول بالا می‌توان کلمه‌ها را امتیازبندی کرد. در جدول زیر مانند نمونه، امتیاز کلمه‌ها را بنویس.

کلمه	امتیاز
اسب	$3 + 5 + 3 = 11$
درخت	
غذا	
صدا	
شروع	
قطره	
کوشا	
توانا	

۹۲- در یک خانواده‌ی فضایی ۱۲ چشم، ۴ سر، ۸ دست، ۴ بینی، ۸ دهان و ۶ پا وجود دارد. این خانواده چند عضو دارد؟

۹۳- اگر ۳ تا گربه در ۳ دقیقه بتوانند ۳ موش را بگیرند. ۱۰۰ تا گربه در چه مدت زمانی ۱۰۰ موش را می‌گیرند؟

الف ۱۰۰ دقیقه

ب ۳ دقیقه

ج ۶۰ دقیقه

د ۶ دقیقه

۹۷- جمله‌های داستان زیر را با حروف «که، با، از، در، برای، به، تا» کامل کن.

سارا صبور است. او شش ساله بود ..... برادر کوچکش به دنیا آمد و خیلی چیزها ..... خانه شان تغییر کرد. مادرش حالا زمان زیادی را ..... غذا دادن، تمیز کردن و مراقبت ..... کودک سپری می‌کند. هر زمان، نوزاد، گریه می‌کرد، سارا سریع ..... پدر و مادرش خبر می‌داد. زمانی ..... مادرش ..... کودک، مراقبت می‌کرد. او منتظر می‌ماند ..... کارش تمام شود. سارا کودکی صبور است. چون همیشه صبر می‌کرده، اول کارهای مربوط ..... نوزاد تمام شود، سپس خواسته‌ی خودش را می‌گفت. از آن جایی ..... سارا صبور بود، مادرش ..... خیال راحت‌تری می‌توانست ..... او و برادرش نگهداری کند. همین طور ..... بزرگ‌تر می‌شدند، سارا و برادرش دوست‌های خوبی ..... هدیه‌گیر شدند.

۹۸- با هر کلمه، ۳ کلمه‌ی تازه و با معنی بنویس.

گزار ..... نو .....

۹۹- در هر ردیف، یک کلمه با بقیه فرق دارد. دور آن خط بکش.

خرداد	تیر	مهر	اسفند
تهران	قم	اصفهان	ایران
شرشر	جیک‌جیک	بع‌بع	قارقار
سبزه	ماهی	سنو	سیب
			انار

۱۰۰- داستان نیایش را بخوان، بیندیش و به سؤال پاسخ بده.

### نیایش

رضاء از زمانی که خیلی کوچک بود، می‌دید که پدر و مادرش هر روز نماز می‌خوانند و در نماز، خدا را شکر می‌کنند و از خدا می‌خواهد که در طول روز کمک‌شان کند. رضاء، حالا کلاس دوم را تمام کرده و می‌تواند خوب بخواند. او هم هر روز دعا می‌خواند. او در طول روز خدا را شکر می‌کند و از او می‌خواهد کمکش کند که همیشه کار درست را انجام بدهد.

- تو چه راهی برای تمرین دعا کردن و نیایش به ذهنت می‌رسد؟

.....

- تو در دعاهایت چگونه از خدا تشکر می‌کنی و از او چه چیزهایی می‌خواهی؟

.....

۱- اگر اعداد زیر را به حروف بنویسیم، کدام تعداد حروف بیشتری خواهد داشت؟

- الف ۱۸۷      ب ۱۲۰      ج ۵۰۲      د ۱۳۲

۲- دو سال پیش ۲۵ سالم بود. دو سال بعد چند ساله خواهم بود؟

- الف ۲۷      ب ۲۸      ج ۲۹      د ۳۰

۳- پنج سال بعد، من و برادرم روی هم ۲۶ ساله خواهیم بود. سه سال قبل چند ساله بودیم؟

- الف ۱۸      ب ۱۰      ج ۱۶      د ۲۱

۴- سه عدد بعد از ۱۷۰ چند عدد قبل از ۲۰۰ می شود؟

- الف ۲۷      ب ۳۰      ج ۳۵      د ۲۹

۵- چهار حرف بعد از «ل» کدام است؟

- الف ن      ب ه      ج م      د ی

۶- اگر به جای رقم ۲، ۷ قرار بدهیم، کدام عدد بزرگ تر خواهد بود؟

- الف ۲۲      ب ۲۸      ج ۲۳      د ۱۲

۷- با کارت های ۴، ۰ و ۶ چند عدد دو رقمی می توان نوشت؟

- الف ۹      ب ۴      ج ۸      د ۶

۸- با کارت های ۳، ۸ و ۲ چند عدد سه رقمی می توان نوشت؟

- الف ۶      ب ۴      ج ۹      د ۵

۹- با کارت های ۱ و ۳ و ۵ چند عدد دو رقمی کوچک تر از ۳۵ می توان نوشت؟

- الف ۳      ب ۵      ج ۶      د ۴

۱۰- من عددی هستم دو رقمی که یکانم ۲ و دهگانم ۶ تا بیشتر از یکانم است. من چه عددی هستم؟

- الف ۲۷      ب ۸۷      ج ۸۸      د ۸۲

۱۱- کوچک ترین عدد دورقمی که رقم هایش مثل هم باشند چیست؟

- الف ۱۰      ب ۱۲      ج ۱۱      د ۲۲

۱۲- پنج عدد قبل از بزرگ ترین عدد دورقمی، کدام عدد است؟

- الف ۹۳      ب ۹۴      ج ۹۳      د ۹۰

۹۲- مانند نمونه‌ها ۵ کلمه بنویس که از سمت راست و چپ یک جور نوشته و خوانده می‌شوند.

مثال ۱ کیک

مثال ۲ نان

۹۳- با هر کلمه، دو جمله با معنی متفاوت بنویس.


.....	باد	.....	باد
.....	دست	.....	دست
.....	تار	.....	تار
.....	شیر	.....	شیر

حالا تو هم سه کلمه‌ی دیگر بنویس که مثل کلمه‌های بالا دارای چند معنی باشند.

۹۴- جدول سه حرفی زیر، از دو طرف حل می‌شود. هر ردیف را بخوان و حل کن.

راه				پر ننگ	۱
غذای شب				دانه‌ای شبیه عدس	۲
در صورت مردان است				سلطان جنگل	۳
میوه‌ی نارس				لاک پشت دارد	۴
نام شانزدهمین حرف الفبای فارسی				وسیله‌ی دفاعی زنبور	۵
آبی که به سوی دریا می‌رود.				زردیک نیست	۶
وسیله‌ی شست و شو در حمام				حیوانی که خرطوم دارد	۷
قدرت و نیرو				مخالف شب	۸
مخالف رو				خیلی خیلی کوچک است	۹
اهلی				جانور خوش خط و خال	۱۰
در مدرسه می‌خوانیم				گرم نیست	۱۱
ریشه‌ی گیاهان در آن قرار دارد.				خانمی پادشاهان	۱۲

۹۵- کلمه‌های مشترک در هر دسته از کلمات زیر را در هر شکل بنویس.



دانشکده - داروکده - دهکده



تیزهوش - باهوش - بی‌هوش



خوش‌رو - خوش‌بو - خوش‌حال

۹۶- داستان زیر را بخوان و به سؤال‌ها پاسخ بده.

### اخلاق خوب

زینب به دیگران احترام می‌گذارد. زینب و سه نفر از دوستانش یک گروه تشکیل دادند تا برای مسابقه‌ی املا، آماده شوند. آن‌ها با هم تمرین می‌کردند و کلمه‌های زیادی یاد گرفتند. دوستان زینب، گاهی در املاهای بعضی از کلمات، مشکل داشتند، اما او خیلی بیشتر تمرین می‌کرد تا مطمئن باشد همه‌ی کلمه‌ها را بلد است.

وقتی تیم آن‌ها در مسابقه برنده شد، همگی خیلی هیجان‌زده بودند و دوستان زینب از او تشکر کردند، اما زینب گفت او بدون کمک دوستانش هرگز نمی‌توانست موفق شود. چون آن‌ها با هم تمرین کرده و اشتباهات یکدیگر را درست کرده بودند. زینب، اخلاق خوب دارد چون افتخار جایزه‌ی اول مسابقه را با دوستانش شریک شد.

۱) چرا زینب، خیلی بیشتر از دوستانش تمرین می‌کرد؟

---

۲) وقتی دوستان زینب از او تشکر کردند، زینب به آن‌ها چه گفت؟

---

۳) چرا زینب اخلاق خوب دارد؟

---

۴) تو چه راهی برای تمرین با اخلاق بودن به ذهنت می‌رسد؟

---